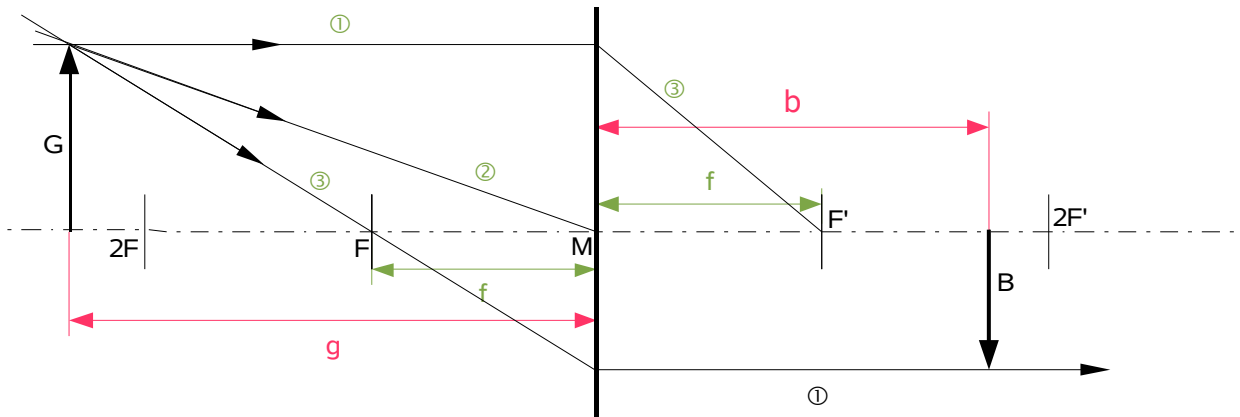


Bildentstehung an Sammellinsen

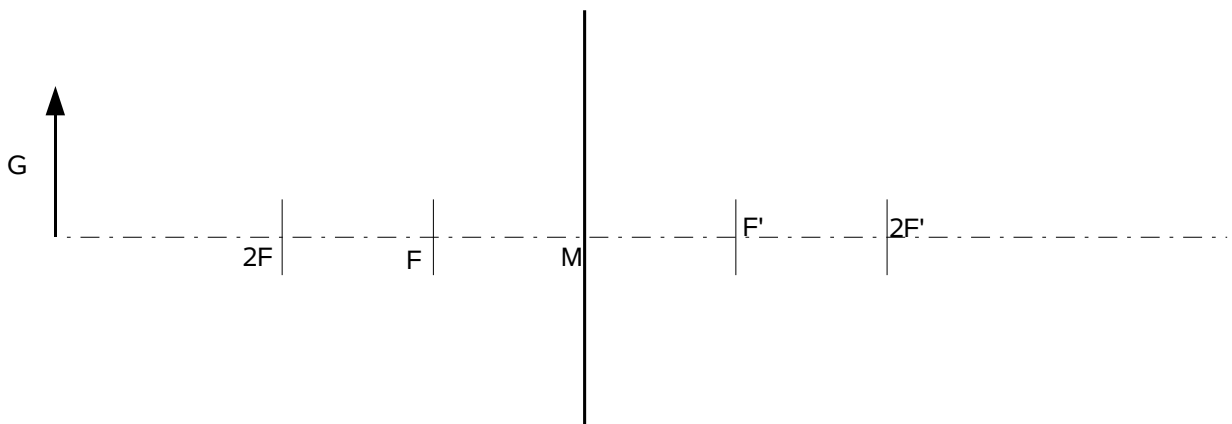


Benenne die unterschiedlichen Punkte und Strahlen in der Skizze.

- G - _____
- B - _____
- M - _____
- F, F' - _____
- f - _____

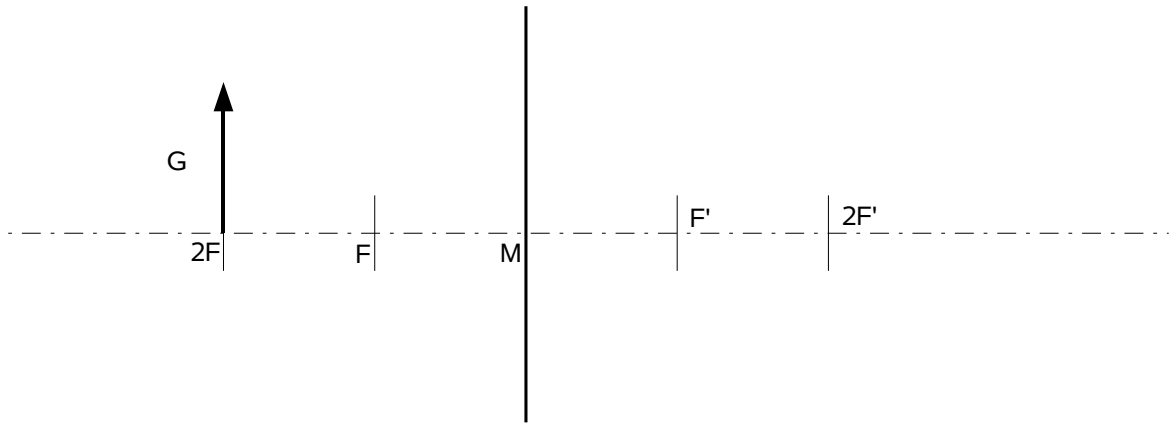
- ① - _____
- ② - _____
- ③ - _____
- g - _____
- b - _____

Konstruiere das Bild. Bestimme durch Messung die gesuchten Werte. Gib die Eigenschaften des entstandenen Bildes an.



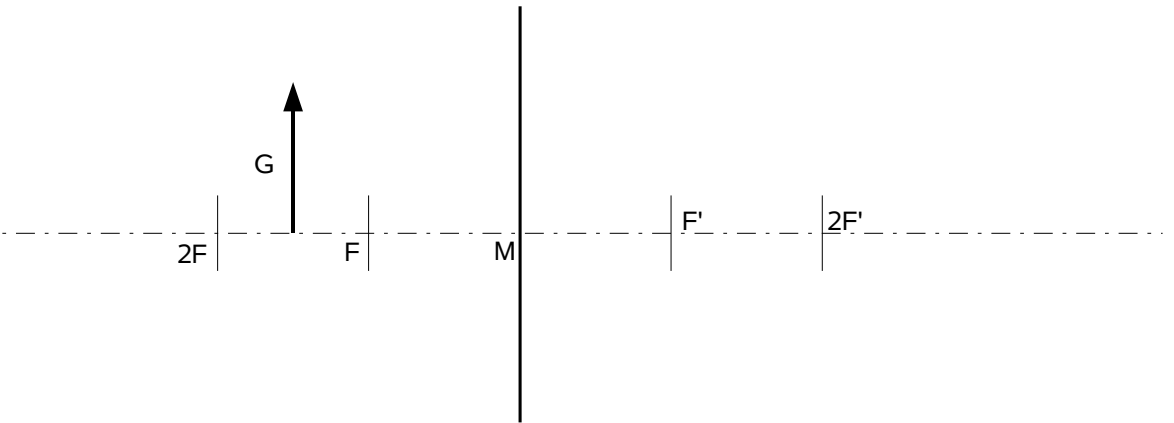
- g = _____
- G = _____
- f = _____
- Das Bild ist _____

- b = _____
- B = _____
- Das Bild ist _____
- Das Bild ist _____



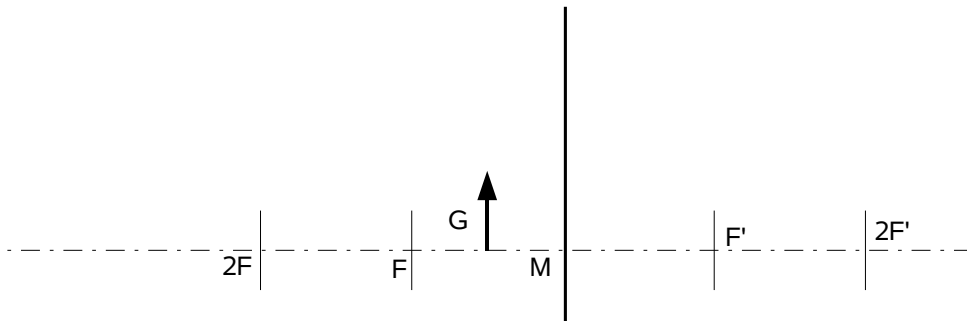
g = _____
 G = _____
 f = _____
 Das Bild ist _____

b = _____
 B = _____
 Das Bild ist _____
 Das Bild ist _____



g = _____
 G = _____
 f = _____
 Das Bild ist _____

b = _____
 B = _____
 Das Bild ist _____
 Das Bild ist _____



g = _____
 G = _____
 f = _____
 Das Bild ist _____

b = _____
 B = _____
 Das Bild ist _____
 Das Bild ist _____